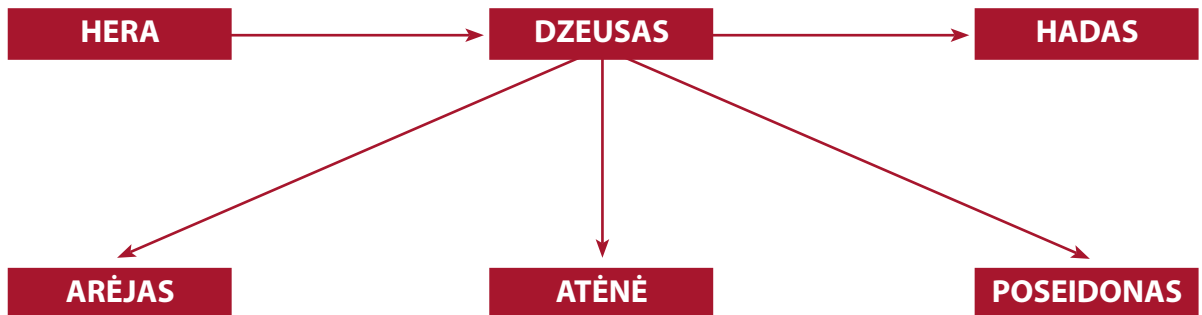


6. Dievų ir herojų pasaulis

- 1** Graikai tikėjo, kad jų dievai tarpusavyje susiję giminystės ryšiais. Nurodykite schemeje rodyklėmis susietų dievų giminystės ryšius atsakymą parašydami virš rodyklės.

Už kiekvieną teisingą atsakymą skiriama po 1 tašką. Didžiausias taškų skaičius už 1-q užduotį – 11 taškų.



Nurodykite, už ką buvo atsakingi:

- Arėjas – (1 tšk.)
- Atėnė – (1 tšk.)
- Dzeusas – (1 tšk.)
- Hadas – (1 tšk.)
- Hera – (1 tšk.)
- Poseidonas – (1 tšk.)

- 2** Įsivaizduokite, kad esate senovės graikų dievai ir susėdę ant Olimpo kalno sprendžiate įvairiausius uždavinius. Įrašykite į aplinkybių aprašymus vardą to graikų dievo ar deivės, kuris galėtų išspręsti pateiktą uždavinį.

Už kiekvieną teisingą atsakymą skiriama po 1 tašką. Didžiausias taškų skaičius už 2-q užduotį – 6 taškai.

- Žemėje kilo karas, žuvo daug žmonių, jų sielas reikia palydėti į mirusiųjų karalystę, tai padarys (1 tšk.).
- Į dievų susirinkimą neatvyko Poseidonas, reikia jį surasti ir kuo greičiau pakviesti. Todėl reikia siųsti pasiuntinį, juo bus (1 tšk.).
- Gavome kvietimą iš Atėnų polio gyventojų, jie pastatė dar vieną paminklą savo deivei (1 tšk.).
- Iš mūsų meilės reikalus geriausiai išmano (1 tšk.).
- „Kur dingo mano triakis šuo ir dvišakis?!“ – suriko (1 tšk.).
- Mėgstu menus, bet galiu atsiųsti ir staigią mirtį, nes aš esu (1 tšk.).

- 3** Graikų pasaulyje buvo svarbūs herojai, kurie, pasak mitų, įveikdavo įvairius pavojus ir pabaisas. Kiekvieną nurodytą herojų rodykle susiekite su jo atliktu žygdarbiu. Pasvarstykite ir atsakykite į toliau pateiktą klausimą.

Už kiekvieną teisingą atsakymą skiriama po 1 tašką. Didžiausias taškų skaičius už 3-į užduotį – 4 taškai.

Tesėjas

Nusileido į požemių karalystę ir atvedė iš ten trivalvį šunį

Persėjas

Nugalėjo Minotaurą

Heraklis



Nugalėjo Medūzą

Kaip manote, kodėl graikai kūrė mitus apie herojus ir pabaisas?

.....
 (1 tšk.)

- 4** Olimpinės žaidynės šiais laikais vyksta kas ketverius metus ir yra laikomos svarbiausiu sporto renginiu pasaulyje. Jų ištakos senovės Graikijoje. Toliau pateikti šeši graikiški indai, ant kurių pavaizduotos sporto rungtys. Išsiaiškinkite pavaizduotas sporto rungtis ir sužinokite, ar jos įtrauktos į šiuolaikines olimpines žaidynes.

Už kiekvieną teisingą atsakymą skiriama po 1 tašką. Didžiausias taškų skaičius už 4-ą užduotį – 12 taškų.

	Sporto rungtis	Ar įtraukta į šių laikų olimpines žaidynes?
		
		

 A black-figure amphora with two handles and a footed base. The main body is decorated with a scene of a chariot pulled by two horses, with a driver and a passenger. The vase is dark with the figures in white.		
 A black-figure kylix, a shallow drinking cup with a footed base. It features a single figure in white, running or walking towards the right, carrying a small object. The background is dark.		
 A black-figure amphora with two handles and a footed base. The main body is decorated with a scene of a chariot pulled by two horses, with a driver and a passenger. The vase is dark with the figures in white.		
 A black-figure kylix with two handles and a footed base. The main body is decorated with a scene of two figures wrestling. One figure is on the ground, and the other is leaning over him. The vase is dark with the figures in white.		

KAIP MAN SEKĖSI?

Šioje temoje iš viso surinkau tšk. iš 33 galimų.

Įsivertinkite: pažymėkite (pvz., X ženklų) atsakymą, kuris geriausiai atitinka jūsų šios temos supratimą.

	TAIP	NE
Nurodau ir apibūdinu svarbiausius senovės graikų religijos bruožus.		
Įvertinu garsiausius graikų mitus ir jų herojus.		
Paaiškinu olimpinių žaidynių paskirtį ir svarbą.		

Trys man geriausiai įsiminę šios temos dalykai:

1.
2.
3.


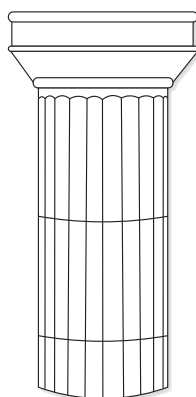

Nesupratau / Nevisiškai supratau ir norėčiau išsiaiškinti:

.....

7. Dailė ir architektūra

- 1** Neatsiejama graikų architektūros detalė – kolonos. Jų būta įvairių. Nurodykite pavaizduotų kolonų stilius.

Už kiekvieną teisingą atsakymą skiriama po 1 tašką. Didžiausias taškų skaičius už 1-q užduotį – 3 taškai.



.....