
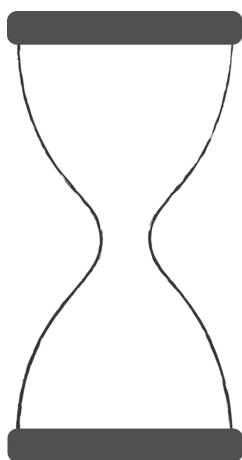


2. ŽMONĖS MOKOSI MATUOTI LAIKĄ

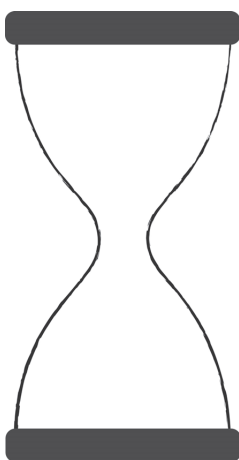
1. Kuris paveikslėlis netinka? Nubrauk jį ir paaiškink savo pasirinkimą. Gal teisingi atsakymai gali būti keli?



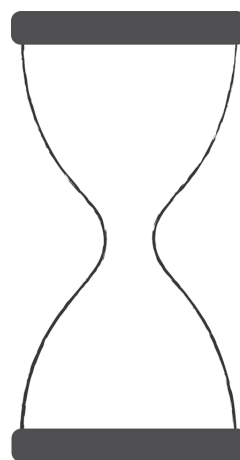
2. Smiltys į kitą smėlio laikrodžio galą subyra per 10 minučių. Nupiešk, kaip atrodys smėlio laikrodis po tam tikro laiko.



Vos apvertus



Po 5 minučių




Po 10 minučių

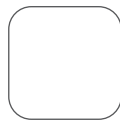
3. Prie kiekvieno laikrodžio parašytas laikas, per kurį išbyra visas smėlis. Langelyje parašyk, kiek kartų reikės apversti kiekvieną laikrodį per 1 valandą.



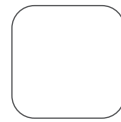
30 min.



10 min.

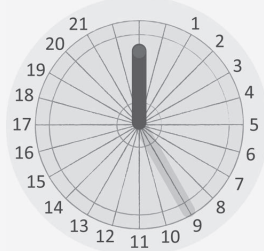


20 min.

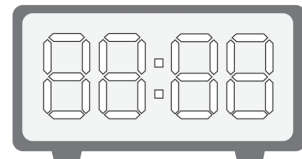
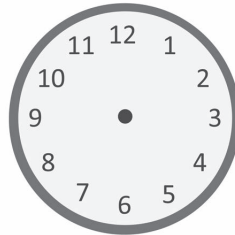


4. Pažymėk laiką pagal pavyzdį. Saulės laikrodyje nupiešk šešėlį, mechaniniame laikrodyje – rodykles, elektroniniame laikrodyje – skaičius.

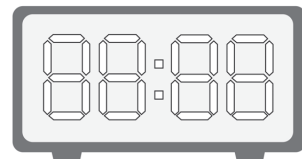
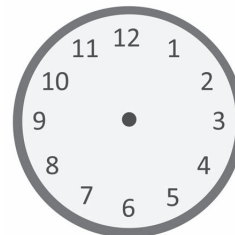
DEVINTA
VALANDA
RYTO



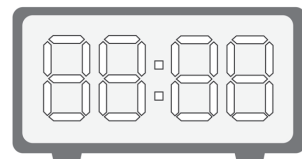
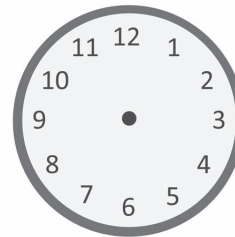
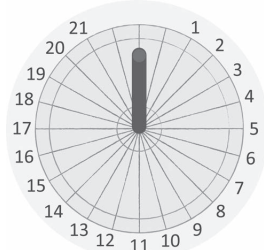
PENKTA
VALANDA
VAKARO



SEPTINTA
VALANDA
RYTO



PIRMA
VALANDA
DIENOS



Kaip man sekasi?



1. MOKAUSI KALBĖTI APIE LAIKĄ

1. Pasimokyk rašyti žodžius ir sakinius.

minutė

minučių

sekundė

sekundžių

Ant sienos tiksi laikrodis.

Iš Vilniaus išvyksta greitasis
traukinys į Klaipėdą.


2. Pažiūrėk į nuotraukas ir pagalvok, kiek laiko gali trukti šie veiksmai. Į laukelius įrašyk po vieną tinkamą žodį: SEKUNDES, MINUTES, VALANDAS.









3. Linija sujunk paveikslėlį su tinkamu žodžių junginiu.




Pirma valanda




Šešta valanda




Septinta valanda




Ketvirta valanda




Antra valanda



Aštunta valanda



Dvylikta valanda



Devinta valanda

Kaip man sekasi?



3. LAIKRODIS

1. Parašyk, kiek valandų rodo laikrodžiai.

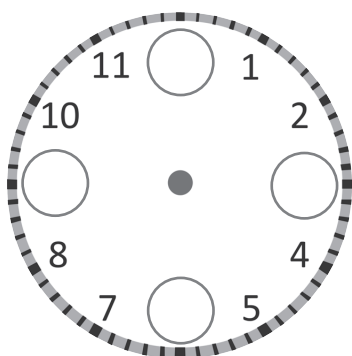
<input type="text" value="2"/> h	<input type="text" value=""/> h	<input type="text" value=""/> h	<input type="text" value=""/> h	<input type="text" value=""/> h	<input type="text" value=""/> h

2. Nupiešk laikrodžiams rodykles.

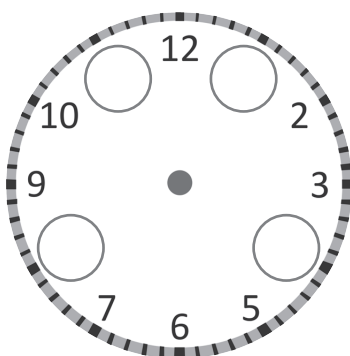
3. Nupiešk laikrodžiams rodykles ir parašyk, kiek valandų.

		<input type="text" value=""/>
		<input type="text" value=""/>

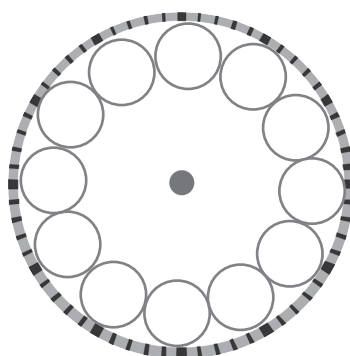
4. Įrašyk trūkstamus skaičius ir nupiešk laikrodžiams rodykles.



6 h

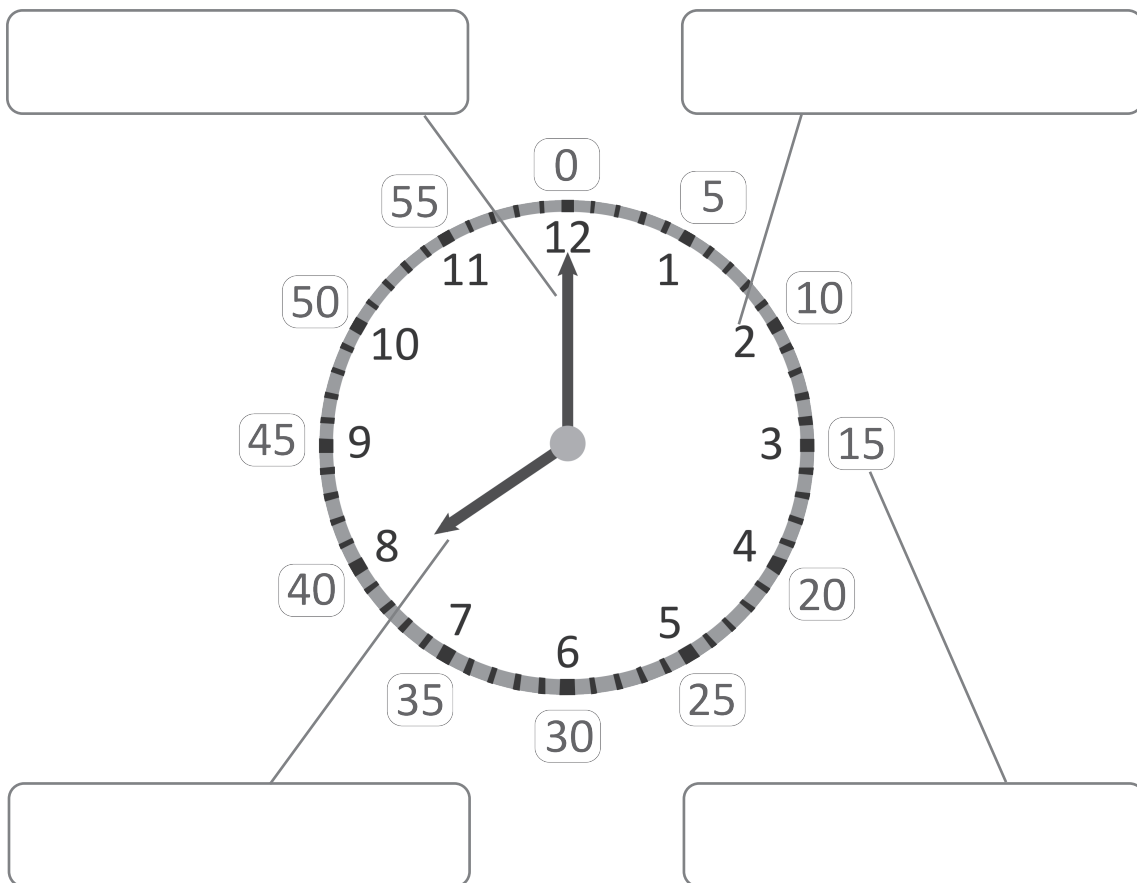


9 h



12 h

5. Laukeliuose parašyk, ką žymi linijos ir skaičiai: VALANDAS ar MINUTES.



6. Pagalvok apie savo dienotvarkę. Kelintą valandą ką veiki? Prieduose esančiame lape nupiešk laikrodžiams rodykles.

Kaip man sekasi?

