

AŠ



MANO VARDAS

.....

## TURINYS

|  |    |   |    |
|--|----|---|----|
| Paaškinimai .....                                    | 3  | Skaičiuoju iki 6 .....                              | 31 |
| Skaičius ir skaitmuo 1 .....                         | 4  | Skaičius ir skaitmuo 7 .....                        | 32 |
| Apskritimas. Skaičiuoju .....                        | 5  | Rutulys. Skaičiuoju iki 7 .....                     | 33 |
| Skaičius ir skaitmuo 2 .....                         | 6  | Sudėtis ir atimtis iki 7 .....                      | 34 |
| Skritulys. Skaičiuoju iki 2 .....                    | 7  | Savaitės dienos. Vakar, šiandien, rytoj .....       | 35 |
| Lygu, po lygiai, tiek pat. Lyginu daiktų kiekį ...   | 8  | Skaičius ir skaitmuo 8 .....                        | 36 |
| Sudėtis .....  | 9  | Viršuje, apačioje, kairėje, dešinėje, viduryje ...  | 37 |
| Atimtis .....  | 10 | Sudėtis ir atimtis iki 8 .....                      | 38 |
| Sudėtis ir atimtis iki 2 .....                       | 11 | Skaičiuoju iki 8 .....                              | 39 |
| Skaičius ir skaitmuo 3 .....                         | 12 | Skaičius ir skaitmuo 9 .....                        | 40 |
| Trikampis. Skaičiuoju iki 3 .....                    | 13 | Virš, prie, prieš, ant, už .....                    | 41 |
| Sudėtis ir atimtis iki 3 .....                       | 14 | Sudėtis ir atimtis iki 9 .....                      | 42 |
| Daugiau, mažiau .....                                | 15 | Vienu daugiau, vienu mažiau,<br>tiek pat .....      | 43 |
| Skaičius ir skaitmuo 4 .....                         | 16 | Sekos. Pratęsiu sekas .....                         | 44 |
| Keturkampis. Kvadratas.                              |    | Renku ir fiksuoju duomenis .....                    | 45 |
| Skaičiuoju iki 4 .....                               | 17 | Skaičius 10 .....                                   | 46 |
| Sudėtis ir atimtis iki 4 .....                       | 18 | Ant, po, prieš, už, kairėje, dešinėje, viduryje ... | 47 |
| Ko yra daugiau, mažiau, tiek pat,<br>po lygiai ..... | 19 | Sudėtis ir atimtis iki 10 .....                     | 48 |
| Skaičius ir skaitmuo 5 .....                         | 20 | Skaičiuoju iki 10 .....                             | 49 |
| Keturkampis. Stačiakampis.                           |    | Grupuoju figūras .....                              | 50 |
| Skaičiuoju iki 5 .....                               | 21 | Už, virš, prieš, prie, ant .....                    | 51 |
| Sudėtis ir atimtis iki 5 .....                       | 22 | Skaičiuoju iki 10. Kuriu ornamentus .....           | 52 |
| Apvalūs, trikampiai, keturkampiai daiktai ...        | 23 | Daikto vieta eilėje: pirmas, pirma, ...             | 53 |
| Į kairę, į dešinę. Nusakau judėjimo kryptį ...       | 24 | Renku ir fiksuoju duomenis .....                    | 54 |
| Skaičiuoju iki 5 .....                               | 25 | Pradedu skaičiuoti iki 20 .....                     | 55 |
| Skaičius ir skaitmuo 6 .....                         | 26 | Matuoju ilgį .....                                  | 56 |
| Kubas. Skaičiuoju iki 6 .....                        | 27 | Lyginu daiktų ilgį .....                            | 57 |
| Sudėtis ir atimtis iki 6 .....                       | 28 | Grupuoju figūras .....                              | 58 |
| Tiek ... kiek .....                                  | 29 | Pasiekimų aprašas .....                             | 61 |
| Sekos. Pratęsiu sekas .....                          | 30 | Iliustracijų šaltiniai .....                        | 63 |


# SKAIČIUS IR SKAITMUO 4

KIEK KO YRA? SUSKAIČIUOK. APVEDŽIOK SKAITMENĮ 4.


4

KETURI  
KETURIOS

4




4



KETURI FLAMINGAI


KETURIOS PAPŪGOS

4




KETURI \_\_\_\_\_

4




KETURIOS \_\_\_\_\_

4



KETURI \_\_\_\_\_

4



KETURIOS \_\_\_\_\_

PARAŠYK SKAITMENĮ 4.

|   |   |  |  |  |  |  |  |  |  |
|---|---|--|--|--|--|--|--|--|--|
| 4 | 4 |  |  |  |  |  |  |  |  |
|---|---|--|--|--|--|--|--|--|--|

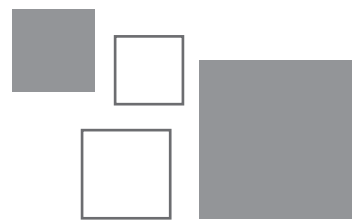
|   |   |  |  |  |  |  |  |  |  |
|---|---|--|--|--|--|--|--|--|--|
| 4 | 4 |  |  |  |  |  |  |  |  |
|---|---|--|--|--|--|--|--|--|--|

# KETURKAMPIS. KVADRATAS. SKAIČIUOJU IKI 4

KIEK YRA KVADRATŲ? PARAŠYK.



4



NUSPALVINK TIEK KVADRATŲ, KIEK NURODYTA.


2



3



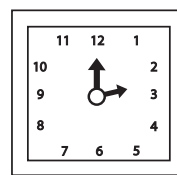

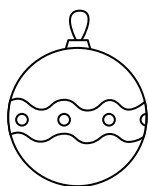

4



1



SUSKAIČIUOK Į KVADRATĄ PANAŠIUS DAIKTUS. KIEK JŲ YRA? PARAŠYK.








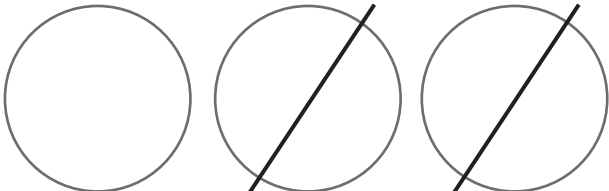


BRAIŽYK KVADRATUS.



# SUDĖTIS IR ATIMTIS IKI 4

SUDĖK ARBA ATIMK. KIEK BUS? PARAŠYK.

|   |  |
|---|--|
|    |    |
| $3 + 1 = \square$   | $4 - 1 = \square$  |
|   |   |
| $1 + 3 = \square$   | $4 - 3 = \square$  |
|  |  |
| $2 + 2 = \square$   | $4 - 2 = \square$  |
|  |  |
| $\square + \square = \square$   | $\square - \square = \square$  |

# SKAIČIUOJU IKI 10

Knyga skiriama 5–6 metų priešmokyklinukams.

**Knygoje pateikiamos užduotys padeda vaikui ugdytis pagrindinio pasiekimų lygio matematinius gebėjimus.**

Atlikdamas tikslingas užduotis vaikas:

- skaičiuoja nuo 1 iki 10, pažįsta skaičius;
- kalbėdamas derina skaičių ir giminę;
- nurodo daikto vietą eilėje;
- skaičiuoja daiktus, sieja skaičių su jų žyminčiu simboliu ir atvirkščiai;
- rašo skaitmenis;
- atlieka sudėties ir atimties veiksmus su skaičiais iki 10;
- lygina daiktų skaičių: daugiau, mažiau, po lygiai;
- matuoja ilgį, lygina daiktus tarpusavyje;
- atpažįsta ir pratęsia sekas;
- nusako judėjimo kryptį, erdvinius santykius;
- sieja įvykius su konkrečia savaitės diena;
- renka, fiksuoja duomenis;
- pažįsta figūras – skritulį, apskritimą, kvadratą, stačiakampį, rutulį, kubą;
- grupuoja figūras pagal vieną požymį;
- lavinasi mąstymą, pratinasi sukaupti ir išlaikyti dėmesį.

**Knyga padeda vaikui siekti individualios matematinio ugdymosi pažangos, pasirengti sėkmingai pradėti mokytis mokykloje.**



978-609-08-0379-0

